

Einkaufen – Bezahlen – Herausgeben












1. Aufgabe:

Anna hat 2 Eurostücke gesammelt.







Damit kauft Anna ein und bezahlt in jedem Geschäft mit einem 2 € Stück.
Schreibe in die Tabelle, wie viele Geldstücke sie jeweils zurück bekommt.

Anna

						
 0,55 €						
 1,29 €						
 0,43 €						
 Zeitschrift 1,32 €						
 1,17 €						
 0,81 €						

2. Aufgabe:

- a) Wie viel Geld hat jedes Kind gespart? Schreibe den Geldbetrag unten in die Tabelle.
- b) Wie viel Geld fehlt jedem Kind noch bis es 10 € gespart hat? Rechne im Heft!

 Jens	 Paul	 Clara	 Steffi
